

Инструкция по выполнению работы

Дорогие ребята!

Внимательно ознакомьтесь с характером каждого задания, определите для себя последовательность выполнения работы. Начинать работу можно с любого задания, однако, рекомендуется выполнять задания в том порядке, в котором они даны. Если какое-то задание вызывает у вас затруднение, пропустите его и постарайтесь выполнить те, в ответах которых вы уверены. К пропущенным заданиям можно будет вернуться, если у вас останется время. Желаем успеха!

2 вариант

1. Вычисли значение выражения $(36 - 28) \cdot (56 : 7) = \square\square\square\square$

2. Антон нашел 8 сыроежек, а лисичек в 2 раза больше.
Сколько лисичек нашел Антон?

Ответ: $\square\square\square\square$ лисичек.

3. Боря нашел 14 лисичек, а сыроежек на 7 меньше.
Сколько всего грибов нашел Боря?

Ответ: $\square\square\square\square$ гриб.

4. Вычисли: $26 \cdot 3 = \square\square\square\square$

5. Вычисли: $96 : 8 = \square\square\square\square$

6. Впиши в "окошко" цифру, чтобы запись была верной.

$$612 > 6\square 2$$

7. Вычисли:

$$\begin{array}{r} 743 \\ - 359 \\ \hline \square\square\square \\ \square\square\square \end{array}$$

8. Сколько сдачи получила мама с 500 рублей, если она купила 4 пачки сахара по 20 рублей каждая?

Ответ: рублей.

9. Сторона квадрата 7 см. Чему равен периметр квадрата?
Отметь свой ответ .

21 см

14 см

49 см

28 см


10. Какие две фигуры имеют равную площадь?
Отметь свой ответ .



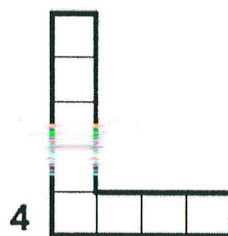
1



2



3



4

1 и 4

1 и 2

1 и 3

2 и 4

11. Маша решила измерить длину ленты с помощью линейки длиной 60 см. Она приложила линейку 4 раза, после чего осталось еще 6 см ленты. Чему равна длина всей ленты?
Отметь свой ответ .

236 см

246 см

240 см

264 см

12. Пряник и 4 одинаковые шоколадки стоят 72 рубля. Сколько стоит одна шоколадка, если пряник стоит 16 рублей?


Отметь верное решение задачи .


$\begin{array}{l} 1) 72+16 = 88 \text{ (руб.)} \\ 2) 88 : 4 = 22 \text{ (руб.)} \end{array}$

$\begin{array}{l} 1) 72-16 = 56 \text{ (руб.)} \\ 2) 16 : 4 = 4 \text{ (руб.)} \end{array}$

$1) 72 : 4 = 18 \text{ (руб.)}$

$\begin{array}{l} 1) 72-16 = 56 \text{ (руб.)} \\ 2) 56 : 4 = 14 \text{ (руб.)} \end{array}$

13. Найди площадь закрашенной фигуры. Используй мерку .



Ответ: мерок.

14. В вазе лежат 57 слив. Сколько слив нужно добавить, чтобы 7 мальчиков разделили их поровну между собой?

Ответ: слив.

15. В каком порядке нужно выполнять действия?
Отметь свой ответ .

$$12 + 8 \cdot 6 - 2$$

- умножение, вычитание, сложение
 умножение, сложение, вычитание
 сложение, умножение, вычитание
 сложение, вычитание, умножение

16. Впиши в "окошки" цифры, чтобы запись была верной.

$$\begin{array}{r} 3 \square 9 \\ + \square 5 \square \\ \hline 573 \end{array}$$

17. Купили 7 букетов цветов по 9 цветков в каждом. В одну вазу поставили 27 цветков, а остальные решили поставить поровну в четыре другие вазы. Сколько цветков поставят в каждую из четырех ваз?

Ответ: цветков.

18. В пять мешков разложили поровну 30 кг сахара, в семь мешков разложили поровну 35 кг муки. Определи, что тяжелее - мешок сахара или мешок муки. Запиши свое решение.



Ответ: тяжелее мешок

19. Из 12 спичек длиной 3 см Света сложила сначала фигуру А, а потом фигуру В. Сравни периметры фигур А и В. Отметь свой ответ .



- фигура А имеет больший периметр
 фигура В имеет больший периметр
 обе фигуры имеют одинаковый периметр

Объясни свой ответ.



20. Выбери в таблице столбик, в котором числа соответствуют тексту: "Для праздника было заготовлено 52 воздушных шарика. Красных шариков было в 2 раза больше, чем зеленых, и на 7 меньше, чем синих."

Цвет	Количество деревьев			
Красный	27	16	18	18
Синий	16	28	25	25
Зеленый	9	8	9	19

- Отметь свой ответ

Объясни свой ответ.
